



ESTADO DE SANTA CATARINA
PREFEITURA MUNICIPAL DE ERVAL VELHO.
SECRETARIA MUNICIPAL DE EDUCAÇÃO, CULTURA E ESPORTE.
ESCOLA BÁSICA MUNICIPAL "CÉSAR AVELINO BRAGAGNOLO".

ÁREA DO CONHECIMENTO: LINGUAGEM	COMPONENTE CURRICULAR: LÍNGUA PORTUGUESA
ANO: 2º ANO	PROFESSORA: DANIELA TEREZINHA DE MATTOS.
TURNOS: MATUTINO E VESPERTINO	
ALUNO:	
CRITÉRIOS DE AVALIAÇÃO: RESPOSTAS CORRETAS, DAS ATIVIDADES, CAPRICHOS, ENTREGA DAS ATIVIDADES DENTRO DO PRAZO ESTIPULADO.	
DATA DO ENVIO: 02/06/2021	DATA DA ENTREGA: 16/06/2021

O LEÃO E O RATINHO

UM LEÃO, CANSADO DE TANTO CAÇAR, DORMIA ESPICHADO DEBAIXO DA SOMBRA BOA DE UMA ÁRVORE.

VIERAM UNS RATINHOS PASSEAR EM CIMA DELE, E ELE ACORDOU.

TODOS CONSEGUIRAM FUGIR, MENOS UM, PORQUE O LEÃO O PRENDEU DEBAIXO DA PATA!

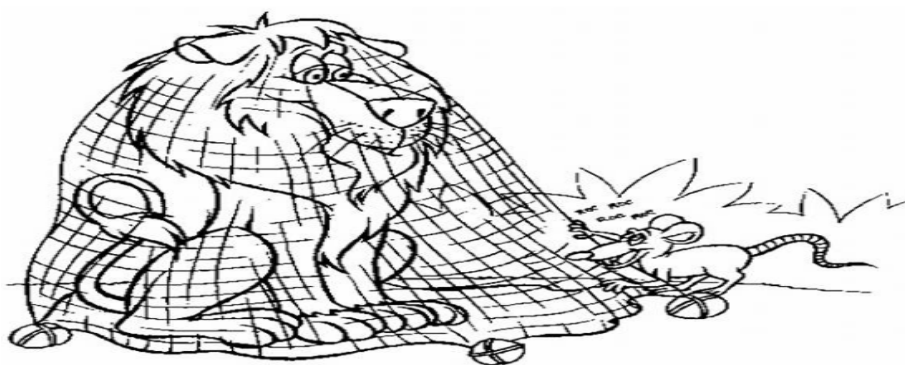
O RATINHO PEDIU E IMPLOROU TANTO, QUE O LEÃO DESISTIU DE ESMAGÁ-LO E DEIXOU QUE FOSSE EMBORA.

ALGUM TEMPO DEPOIS, O LEÃO FICOU PRESO NA REDE DE UNS CAÇADORES.

COMO O LEÃO NÃO CONSEGUIA SE SOLTAR, O GRANDE ANIMAL FAZIA A FLORESTA INTEIRA TREMER COM SEUS URRROS DE RAIVA.

DE REPENTE, APARECEU O RATINHO, E COM SEUS DENTES AFIADOS, ROEU AS CORDAS E SOLTOU O LEÃO.

MORAL: UMA BOA AÇÃO GANHA OUTRA.



MARQUE COM UM X A RESPOSTA CERTA. (COPIAR AS QUESTÕES E REPONDER TUDO NO CADERNO).

1- QUEM É QUE DORMIA DEBAIXO DE UMA ÁRVORE?

- A) UM LEÃO.
- B) UNS RATINHOS.

2- QUEM É QUE SUBIU NO LEÃO QUANDO ELE ESTAVA DORMINDO?

- A) PASSARINHOS.
- B) UNS RATINHOS.

3-QUANTOS RATINHOS NÃO CONSEGUIRAM FUGIR DO LEÃO?

- A) UM.
- B) TRÊS.

4- COMO O LEÃO PRENDEU O RATINHO?

- A) COM A BOCA.
- B) COM A PATA.

5.QUEM PRENDEU O LEÃO DEPOIS DE ALGUM TEMPO?

- A) UMAS FORMIGAS.
- B) UNS CAÇADORES.

6-COMO O LEÃO FEZ A FLORESTA TODA TREMER?

- A) COM GRITOS.
- B) COM CHORO.

7- COMO O RATINHO CONSEGUIU SOLTAR O LEÃO?

- A) O RATINHO SOLTOU O LEÃO COM UM GALHO DE ÁRVORE.
- B) O RATINHO SOLTOU O LEÃO ROENDO AS CORDAS.

8- QUEM SÃO OS PERSONAGENS DO TEXTO?

9-QUAL O TÍTULO DO TEXTO?

10- POR QUE O LEÃO SOLTOU O RATINHO?

11- FAÇA EM SEU CADERNO UM DESENHO REPRESENTANDO O TEXTO

12- COM AJUDA DE UM FAMILIAR , ESCREVA OUTRO FINAL DA HISTÓRIA.(RESPONDER NA FOLHA E COLAR NO CADERNO).



ESTADO DE SANTA CATARINA
PREFEITURA MUNICIPAL DE ERVAL VELHO.
SECRETARIA MUNICIPAL DE EDUCAÇÃO, CULTURA E ESPORTE.
ESCOLA BÁSICA MUNICIPAL “CÉSAR AVELINO BRAGAGNOLO”.

ÁREA DO CONHECIMENTO: MATEMÁTICA	COMPONENTE CURRICULAR: MATEMÁTICA
ANO: 2º ANO TURNO: MATUTINO E VESPERTINO	PROFESSORA: DANIELA TEREZINHA DE MATTOS.
ALUNO:	
CRITÉRIOS DE AVALIAÇÃO: RESPOSTAS CORRETAS, DAS ATIVIDADES, CAPRICHOS, ENTREGA DAS ATIVIDADES DENTRO DO PRAZO ESTIPULADO.	
DATA DO ENVIO: 02/02/2021	DATA DA ENTREGA: 16/02/2021



2- ESCREVA O NOME DA CADA CRIANÇA DE ACORDO COM AS PISTAS.

MARIA ESTÁ COM OS BRAÇOS CRUZADOS SOBRE O JOELHO.

PEDRO PESA 6 QUILOS A MAIS QUE MARIA.

JULIA PESA 4 QUILOS A MENOS QUE ENZO.

QUANTOS QUILOS MARIA E PEDRO PESAN JUNTOS?

(RESPONDER NA FOLHA E COLAR NO CADERNO)

1- DESCUBRA QUAL É O NÚMERO, ECREVA AO LADO DEPOIS ENCONTRE-OS NO CAÇA-NÚMEROS.

1 DEZENA E 4 UNIDADES: _____

2 DEZENAS: _____

4 DEZENAS E 7 UNIDADES: _____

6 DEZENAS E 3 UNIDADES: 63

2 DEZENAS E 1 UNIDADE: _____

3 DEZENAS E 2 UNIDADES: _____

1 DEZENA E 7 UNIDADES: _____

5 DEZENAS E 6 UNIDADES: _____

3 DEZENAS E 6 UNIDADES: _____

5 DEZENAS E 8 UNIDADES: _____

9 DEZENAS E 5 UNIDADES: _____

2 DEZENAS E 4 UNIDADES: _____


9 DEZENAS E 7 UNIDADES: _____

6 DEZENAS E 5 UNIDADES: _____

7 DEZENAS: _____

1 DEZENA: 10

(RESPONDER NA FOLHA E COLAR NO CADERNO.)



3 - RESOLVA OS PROBLEMAS ,FAZENDO A OPERAÇÃO E A RESPOSTA.(**COPIAR TUDO NO CADERNO E RESPONDER NO CADERNO**)

1- ROBERTA COMPROU 46 FIGURINHAS E GANHOU MAIS 32 DE SEU PRIMO.COM QUANTAS FIGURINHAS ROBERTA FICOU?

2- EDUARDO TEM 48 SELOS E ALBERTO TEM 50 SELOS.QUANTOS SELOS ELES TEM JUNTOS?

3-LUCAS COMPROU 42 ROSAS MAIS 40 CRAVOS.QUANTAS FLORES LUCAS COMPROU AS TODO?

4- MAMÃE FEZ 2 DEZENAS DE BRIGADEIROS BRANCOS E 3 DEZENAS DE BRIGADEIROS PRETOS .QUANTOS DOCINHOS MAMÃE FEZ ?

5- NA FAZENDA TEM 35 CAVALOS MAIS 24 BOIS.QUANTOS ANIMAIS TEM NA FAZENDA?


6- MAMÃE FEZ 2 DEZENA E MEIA DE BRIGADEIROS, FOI COMIDO 1 DEZENA.QUANTOS BRIGADEIROS RESTARAM?

7- RAFAELA PLANTOU 99 MUDAS DE ROSAS, COM O FRIO MORRERAM 50 ROSAS.QUANTAS SOBRARAM?

8- DAVI TEM 97 BOLINHAS DE GUDE, ELE DEU PARA SEU IRMÃO 37 BOLINHAS DE GUDE.QUANTAS SOBRARAM?

9- KARINA COLHEU 78 LARANJAS, SUA MÃE USOU 2 DEZENAS PARA FAZER UM SUCO.QUANTAS LARANJAS SOBRARAM?

10- JOSÉ COMPROU 89 SACOS DE RAÇÃO PARA SEUS ANIMAIS , NO CAMINHO DE VOLTA PARA SUA CASA ELE PERDEU 35.QUANTOS SACOS DE RAÇÃO SOBROU?

	ESTADO DE SANTA CATARINA PREFEITURA MUNICIPAL DE ERVAL VELHO. SECRETARIA MUNICIPAL DE EDUCAÇÃO, CULTURA E DESPORTO. ESCOLA BÁSICA MUNICIPAL “CÉSAR AVELINO BRAGAGNOLO”.	
ÁREA DO CONHECIMENTO: GEOGRAFIA	COMPONENTE CURRICULAR: GEOGRAFIA	
ANO: 2 ° ANO TURNO: MATUTINO E VESPERTINO	PROFESSORA: DANIELA TEREZINHA DE MATTOS.	
ALUNO:		
CRITÉRIOS DE AVALIAÇÃO: RESPOSTAS CORRETAS, DAS ATIVIDADES, CAPRICO, ENTREGA DAS ATIVIDADES DENTRO DO PRAZO ESTIPULADO.		
DATA DO ENVIO: 02/02/2021	DATA DA ENTREGA: 16/02/2021	

FAÇA A LEITURA, RESPONDA AS QUESTÕES E COLE NO CADERNO.

PAISAGEM GEOGRÁFICA

O NOSSO PLANETA, A TERRA, É A NOSSA GRANDE CASA. O LUGAR ONDE TODOS NÓS MORAMOS. NELE EXISTEM DIFERENTES TIPOS DE PAISAGEM.

AS PAISAGENS FORMADAS PELA NATUREZA, COMO AS ÁRVORES, OS RIOS, AS SERRAS E AS MONTANHAS, SÃO NATURAIS.

AQUELAS EM QUE NÃO HÁ A INTERFERÊNCIA DO HOMEM.

AS PAISAGENS ESTÃO SEMPRE SE MODIFICANDO. ISSO É O RESULTADO DE DIVERSAS MUDANÇAS OCORRIDAS DURANTE OS ANOS E QUE SÃO CAUSADAS PELA AÇÃO DA PRÓPRIA NATUREZA OU PELOS SERES HUMANOS, DE VÁRIAS MANEIRAS.



- 1 O QUE FAZ PARTE DA PAISAGEM DO LUGAR ONDE VOCÊ MORA?
- PINTE OS QUADRINHOS:

RUAS

PONTE

LOJAS

TÚNEL

RIO

ESTRADA

MONTANHA

ANIMAIS

EDIFÍCIOS

CASAS

LAGO

ÁRVORES

MAR

PRAÇA

PASTO

O QUE TEM MAIS?

2

() ELEMENTOS DA PAISAGEM NATURAL

-

() ELEMENTOS CONSTRUÍDOS PELO HOMEM.

PAISAGEM DA SUA CIDADE.

3- OBSERVE O LOCAL ONDE VOCÊ MORA, ESCOLHA UMA PAISAGEM DESENHE E ESCREVA (PODE SER EM UMA FOLHA OU NO CADERNO).

ELEMENTOS NATURAIS QUE VOCÊ DESENHOU:

ELEMENTOS CONSTRUÍDOS PELO HOMEM QUE VOCÊ DESENHOU: